


رقم الجلوس :	اسم الطالب :
 منصة الاختبارات الالكترونية لأبنائنا في الخارج ٢٠٢٥	امتحان مادة : التاريخ للصف : الأول الثانوي الفصل الدراسي الثاني – ٢٠٢٥

١ - أدى توفر الأخشاب الجيدة في فينقيا إلى حدوث .....

٢	تقدم وتنوع صناعة الأثاث
ب	أرتفع شأن النجارين اجتماعياً
ح	تسهيل العمل بالتجارة البحرية
د	توفير مادة خام في بناء المنازل

٢ - أي من الشعوب التي سكنت العراق تعد هي الأساس في نشأة الحضارة العراقية ؟.....


٢	السومرية
ب	البابلية
ح	الأكادية
د	الآشورية

٣ - يصح أن نصف موقف المصريين من قدوم الإسكندر بجيوشه لمصر بأنه.....

٢	جبن واستسلام
ب	شجاعة وإقدام
ح	تقدير واعتزاز
د	تصالح بعد عداء

٤ - يدل وجود آثار فرعونية في جزيرة كريت على.....

٢	احتلال مصر للجزيرة
ب	التواصل الحضاري مع الجزيرة
ح	هجرة المصريين للجزيرة
د	استخدام المصريين عملة الجزيرة

رقم الجلوس :	اسم الطالب :
 منصة الاختبارات الالكترونية لأبنائنا في الخارج ٢٠٢٥	امتحان مادة : التاريخ للصف : الأول الثانوي الفصل الدراسي الثاني - ٢٠٢٥

٥ - ( الخدمة الإلزامية - فرض أكثر من ٢٠٠ ضريبة - عمل إحصاء للسكان ) أي من الفترات التاريخية التي درستها ترتبط بالخصائص السابقة .....؟

١	الدولة الآشورية في العراق
ب	حكم البطالمة في مصر
ج	زمن الدولة البيزنطية
د	خضوع مصر لحكم الرومان

٦ - تُعد أكثر فترات الازدهار في أثينا والتي تميزت بتنوع الإنجازات الحضارية هي فترة حكم .....


١	بركليس
ب	سولون
ج	فيليب الثاني
د	الإسكندر

٧ - عندما منح مجلس الشيوخ في روما للقائد أكتافوس لقب أغسطس تحول نظام الحكم لنظام .....

١	ملكي
ب	جمهوري
ج	إمبراطوري
د	برلماني

٨ - أقدم المدن الفينيقية والتي وثقت علاقتها بمصر هي مدينة .....

١	صيدا
ب	صور
ج	جبيل
د	أوغاريت

رقم الجلوس :	اسم الطالب :
 منصة الاختبارات الالكترونية لأبنائنا في الخارج ٢٠٢٥	امتحان مادة : التاريخ للصف : الأول الثانوي الفصل الدراسي الثاني - ٢٠٢٥

٩ - أي من الطبقات الآتية عانت من الظلم وقامت بثورات ضد السلطة الحاكمة في روما .....؟

٢	الأشراف
ب	التجار
ح	الحرفيون
د	العبيد

١٠ - أتصف حكم البطالمة لمصر بالتسامح الديني ودليل ذلك.....

٢	احترامهم المعبودات المصرية.
ب	اضطهادهم للديانة المسيحية.
ح	تقديسهم لعبادة الملوك.
د	حرصهم على نشر معبوداتهم.

( انتهت الأسئلة )